

# “XXI əsr bacarıqları” üzrə Məktəblilərarası Olimpiada



**XXI  
ƏSR** Beynəlxalq  
Təhsil və  
Innovasiya  
Mərkəzi

**Edu**nomika

S.A.A.: \_\_\_\_\_

KOMANDA: \_\_\_\_\_

MƏKTƏB: \_\_\_\_\_

SİNİF: \_\_\_\_\_

**5-6**

İMTAHAN MÜDDƏTİ: 120 DƏQIQƏ

**BAKI**

20 APREL 2024-CÜ İL





1. Qarşınızda hansı bürcün ulduzlarıdır?  
*Bu sual üzrə toplaya biləcəyiniz bal = 3 bal*


*Cavab üçün xana:*

2. Bu loqotiplər hansı nazirliklərin loqotipləridir?  
*Bu sual üzrə toplaya biləcəyiniz bal = 6 bal (hər bənd = 1,5 bal)*



a.

---



b.

---



c.

---



d.

---

- 3.** Həsən 4 manatlıq bazarlıq etdi. Satıcıya 20-manatlıq kağız pul uzatdı. Satıcı Həsənə pulun qalığını kağız pullarla neçə fərqli kombinasiya ilə qaytara bilər?  
*Kassada qəpik pullar yoxdur, yalnız kağız pullardır və hər bir əsginasdan 20 ədəddir.  
Bu sual üzrə toplaya biləcəyiniz bal = 5 baldır (bütün mümkün kombinasiyalar = 4 bal, cavab = 1 bal)*

*Cavab və həll üçün xana:*

- 4.** Düzünə və tərsinə eyni cür oxunan ədədlər palindrom adlanırlar. Məsələn, 22, 464, 3553 ədədləri palindromdurlar.  
X üçrəqəmli palindromdur. Əgər həmin ədəddən 73 çıxsaq, ikirəqəmli palindrom alınacaq. X-i tapın.  
*Bu sual üzrə toplaya biləcəyiniz bal = 5 bal (həlli = 4 bal, cavab = 1 bal)*

*Cavab və həll üçün xana:*

- 5.** Bu ilin iyun ayında neçə bazar günü var və onlar hansı tarixlərə düşürlər?  
*Bu sual üzrə toplaya biləcəyiniz bal = 3 baldır (cavab = 1 bal, tarixlər = 2 bal)*

*Cavablar üçün xana:*

6. Nənə x il bundan əvvəl anadan olub, nəvə isə x ay bundan əvvəl. Nənə ilə nəvənin yaşının cəmi 65 təşkil edir. Nənə nəvədən neçə yaş böyükdür?

*Bu sual üzrə toplaya biləcəyiniz bal = 5 bal (həlli = 4 bal, cavab = 1 bal)*

*Cavab və həll üçün xana:*

7. Bu abreviaturların açıqlaması nədir?

*Bu sual üzrə toplaya biləcəyiniz bal = 5 bal (hər bənd = 1 bal)*

YPX \_\_\_\_\_

MDB \_\_\_\_\_

SES \_\_\_\_\_

CAR \_\_\_\_\_

BDU \_\_\_\_\_

8. Aşağıdakı tarixlər hansı hadisələrlə bağlıdır?

*Bu sual üzrə toplaya biləcəyiniz bal = 5 bal (hər bənd = 1 bal)*

26 fevral \_\_\_\_\_

8 mart \_\_\_\_\_

8 noyabr \_\_\_\_\_

12 noyabr \_\_\_\_\_

31 dekabr \_\_\_\_\_

9. Bu yol nişanlarının hər biri nəyi bildirir?  
*Bu sual üzrə toplaya biləcəyiniz bal = 5 bal (hər bənd = 1 bal)*



\_\_\_\_\_



\_\_\_\_\_



\_\_\_\_\_



\_\_\_\_\_



\_\_\_\_\_



10. 1966-cı ilə aid bu şəkil hansı şəhərdə çəkilib?  
*Bu sual üzrə toplaya biləcəyiniz bal = 3 bal*

*Cavab üçün xana:*

**11.** Dərsləyin səhifələrini nömrələmək üçün 540 rəqəm istifadə olundu. Dərsləkdə neçə səhifə var?

*Bu sual üzrə toplaya biləcəyiniz bal = 6 bal (həlli = 4 bal, cavab = 2 bal)*

*Cavab və həll üçün xana:*

**12.** Aşağıdakı suallara yalnız BƏLİ və yaxud XEYR yazaraq cavab verin.

*Bu sual üzrə toplaya biləcəyiniz bal = 5 bal (hər bənd = 1 bal)*

Zəlzələ zamanı liftdən istifadə etmək təhlükəlidir mi? \_\_\_\_\_

Yağışın olub-olmayacağını bir saat əvvəlcədən dəqiq proqnozlaşdırmaq mümkündürmü? \_\_\_\_\_

İşıqforun qırmızı işığı yanarsa, piyadalar yolu keçə bilməzlər. Bəs qırmızı işıq uşaqlı piyadalar üçün yananda onlar yolu keçə bilərlərmi? \_\_\_\_\_

Qan qrupu AB+ olan şəxs istənilən qan qrupu daşıyıcısı üçün qan donoru ola bilərmə? \_\_\_\_\_

Bank kartı ilə onlayn alış-veriş edərkən kartın PİN-kodunu onlayn mağaza satıcısına deməliyikmi? \_\_\_\_\_

**13.** Özündən başqa daha 5 ikirəqəmli ədədə qalıqsız bölünə bilən ən böyük ikirəqəmli ədəd hansıdır?

*Bu sual üzrə toplaya biləcəyiniz bal = 3 bal*

*Cavab üçün xana:*

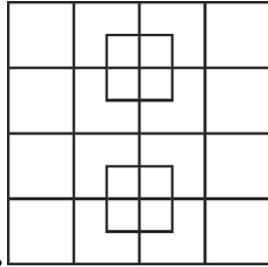
**14.** Bu sualların hər birini cavablandırın

*Bu sual üzrə toplaya biləcəyiniz bal = 6 bal (hər bənd = 2 bal)*

TikTokda ən çox abunəçisi olan şəxs kimdir? \_\_\_\_\_

“Facebook” hansı ölkədə yaradılıb? \_\_\_\_\_

“Wolt” şirkətinin gəlir mənbəyi nədir? \_\_\_\_\_



**15.** Bu şəkildə neçə kvadrat tapmaq olar?

*Bu sual üzrə toplaya biləcəyiniz bal = 3 bal*

*Cavab üçün xana:*

**16.** Niyə ekoloqlar plastik qabların dənizə atılmamasını təbliğ edirlər? Bunun nə kimi xeyri var?

*Bu sual üzrə toplaya biləcəyiniz bal = 3 bal*

*Cavab üçün xana:*

**17.** Rasim səyahətə getməyi planlaşdırır. Onun gedəcəyi ölkə Portuqaliya və Fransa ilə həmsərhəddir. Rasimin gedəcəyi ölkənin paytaxtı hansı şəhərdir?

*Bu sual üzrə toplaya biləcəyiniz bal = 2 bal*

*Cavab üçün xana:*

**18.** Hər bir skelet şəklinin yanında onun hansı heyvana aid olduğunu yazın.

*Bu sual üzrə toplaya biləcəyiniz bal = 4 bal (hər bənd üzrə 1 bal)*



\_\_\_\_\_



\_\_\_\_\_



\_\_\_\_\_



\_\_\_\_\_

**19.** Hər üç sırada ədədlər eyni məntiqi ardıcılıqla düzülüblər.

1, 3, 2, 6, 5, a

2, 6, 5, 15, 14, b

3, 9, 8, 24, 23, c

$c - b - a = ?$

*Bu sual üzrə toplaya biləcəyiniz bal = 5 bal (həlli = 3 bal, cavab = 2 bal)*

*Cavab və həll üçün xana:*

**20.** Aşağıdakı siyahıda sizə 7 ölkə təqdim olunur. Bir sonrakı siyahıda isə hal-hazırda və yaxud keçmişdə həmin dövlətlərin rəhbərlərinin adları yer alır. Hər bir ölkənin adının yanında müvafiq xanada həmin ölkənin rəhbərinin adını qeyd edin (bəndin adını yazmaq kifayətdir).

*Bu sual üzrə toplaya biləcəyiniz bal = 7 bal (hər bənd üzrə 1 bal)*

Albaniya	
İrlandiya	
Fransa	
İsveçrə	
Almaniya	
Gürcüstan	
İraq	

- Pyer-Jozef-Oqüst Messmer
- Şon Frensis Lemass
- Horst Köler
- Bayram Beqay
- Cuzeppe Motta
- Əhməd Həsən əl-Bakr
- Eduard Şevardnadze

**21.** Mağaza tortun birini 30 manata satırdı və gündə 85 tort satılırdı. Mağaza rəhbərliyi 10% endirim etdi və gördü ki, satışlar 20% artdı. Əgər satışların qiymətdən xətti funksiya ilə asılı olduğunu nəzərə alsaq, tortun biri 18 manata satılarsa, mağaza bir günə neçə manatlıq satış etmiş olar?

*Bu sual üzrə toplaya biləcəyiniz bal = 7 bal (həlli = 5 bal, cavab = 2 bal)*

*Cavab üçün xana:*

1		4	
2	13		7
		8	
16	15		10

22.

Şəkildəki kvadratın bəzi xanaları boşdur. Ədədlərin xanalara hansı məntiq üzrə belə yazıldığını taparaq boş xanalara çatışmayan ədədləri yazın

*Bu sual üzrə toplaya biləcəyiniz bal = 5 bal (yalnız tam cavaba görə)*



23.

Bu rəsm Mərkəzi Asiya ölkələrinin birində çəkilib. Sizcə hansı ölkədə və şəkildə təsvir olunan şəxslər nə edirlər?

*Bu sual üzrə toplaya biləcəyiniz bal = 4 bal (hər bənd = 2 bal)*

*Cavab üçün xana:*

**24.** Hər bir tərif üçün ingilis dilində uyğun sözü yazın. Hər xanaya yalnız bir hərf yazmaq olar.

*Bu sual üzrə toplaya biləcəyiniz bal = 5 bal (hər bənd üzrə 1 bal)*

a. A solid white or yellow fat made by churning cream and used for cooking and spreading on bread

\_\_\_ T \_\_\_ \_\_\_

b. A person that has taken first place in a contest or game

\_\_\_ H \_\_\_ \_\_\_ \_\_\_

c. A period of rest from school, work, or other activities

\_\_\_ C \_\_\_ \_\_\_ \_\_\_

d. A platform or a small room used to raise and lower people or goods from one level or floor to another in a building

\_\_\_ E \_\_\_ \_\_\_ \_\_\_

e. A public procession of people, marching bands, or vehicles in front of spectators as part of a celebration or ceremony

\_\_\_ D \_\_\_

**25.** Hər iki rəqəmi fərqli olan neçə cüt ikirəqəmli ədəd var?

*Bu sual üzrə toplaya biləcəyiniz bal = 7 bal (həlli = 5 bal, cavab = 2 bal)*

*Cavab üçün xana:*



26.

Kürələrdən ibarət bu tetraedrdə cəmi neçə kürə var? Tetraedrin içində də kürələrdir.

*Bu sual üzrə toplaya biləcəyiniz bal = 4 bal (həlli = 2 bal, cavab = 2 bal)*

*Cavab və həll üçün xana:*

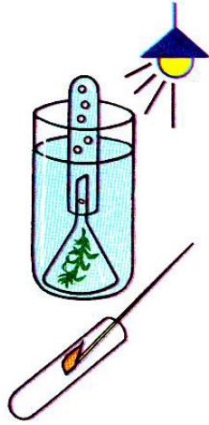
27. Bakı ilə Paris arasında vaxt fərqi 2 saatdır. Bakıdan Parisə təyyarə 6 saat 20 dəqiqəyə çatır. Əgər təyyarə Bakıdan 10:50-də yola düşərsə, Parisə yerli vaxtla saat neçədə çatar?

*Bu sual üzrə toplaya biləcəyiniz bal = 5 bal (həlli = 3 bal, cavab = 2 bal)*

*Cavab və həll üçün xana:*

28. Polis çağırmaq üçün \_\_\_\_\_ qısa nömrəsini, təcili tibbi yardım xidmətini çağırmaq üçün \_\_\_\_\_ qısa nömrəsini, yanğın söndürmə xidmətini çağırmaq üçün \_\_\_\_\_ qısa nömrəsini yığmaq lazımdır.

*Bu sual üzrə toplaya biləcəyiniz bal = 3 bal (hər bənd üzrə 1 bal)*



**29.**

Bu şəkildəki təcrübə sxemində hansı bioloji proses təsvir olunub?  
*Bu sual üzrə toplaya biləcəyiniz bal = 4 bal*

*Cavab və həll üçün xana:*

**30.** Aşağıdakı idmançıların hər birinin adının yanında onların hansı idman növündə uğur qazandıqlarını yazmalısınız.  
*Bu sual üzrə toplaya biləcəyiniz bal = 10 bal (hər bənd üzrə 1 bal)*

Nicat Abbasov \_\_\_\_\_

Rafael Nadal \_\_\_\_\_

Manuel Noyer \_\_\_\_\_

Rafael Ağayev \_\_\_\_\_

Serxio Peres \_\_\_\_\_

Nataliya Məmmədova \_\_\_\_\_

Rəfiqə Şabanova \_\_\_\_\_

Məhəmməd Əli \_\_\_\_\_

Useyn Bolt \_\_\_\_\_

Lebron Ceyms \_\_\_\_\_

**31.** 123456 ədədində iki rəqəmin üzərindən elə xətt çəkin ki, yerdə qalan dörd rəqəmli ədəd doqquza qalıqsız bölünsün. Alınan ədədi yazın.

*Bu sual üzrə toplaya biləcəyiniz bal = 4 bal (həlli = 3 bal, cavab = 1 bal)*

*Cavab və həll üçün xana:*

**32.** Əli elektron qol saatının ekranına baxdı. Ekranı 10:07:17 yazılmışdı. Ən azı neçə saniyədən sonra ekrandakı bütün rəqəmlər fərqli olacaqlar?

*Bu sual üzrə toplaya biləcəyiniz bal = 5 bal (həlli = 4 bal, cavab = 1 bal)*

*Cavab və həll üçün xana:*

**33.** Rəqəmlərinin cəmi 5 olan neçə üç rəqəmli ədəd var?

*Bu sual üzrə toplaya biləcəyiniz bal = 5 bal (həlli = 4 bal, cavab = 1 bal)*

*Cavab və həll üçün xana:*

**34.** Solda məntiqi məsələnin şərtidir, sağda isə onun həlli. Məntiqi məsələnin həll şərtləri nələrdir?

*Bu sual üzrə toplaya biləcəyiniz bal = 6 bal*

	8				5	1	7	9
			2		6		8	4
9		3				6		
2	7			8		5		3
4				5		8	1	2
		8		4	2			7
8					3			1
3	5	4		1			9	
	9	6		2	4	7		

6	8	2	4	3	5	1	7	9
7	1	5	2	9	6	3	8	4
9	4	3	8	7	1	6	2	5
2	7	1	6	8	9	5	4	3
4	6	9	3	5	7	8	1	2
5	3	8	1	4	2	9	6	7
8	2	7	9	6	3	4	5	1
3	5	4	7	1	8	2	9	6
1	9	6	5	2	4	7	3	8

*Cavab üçün xana:*

**35.** 10 dəqiqə əvvəl iki avtomobil arasında məsafə 10 km idi, indi isə 6 km. 10 dəqiqə sonra onlar arasındakı məsafə neçə km olacaq? Hər iki avtomobil sabit sürətlə istiqamətlərini dəyişmədən eyni yolla hərəkət edirlər.

*Bu sual üzrə toplaya biləcəyiniz bal = 9 bal (həlli = 5 bal, cavab = 4 bal)*

*Cavab və həll üçün xana:*

**36.** Aşağıda sizə məşhur bədii əsərlərin müxtəlif dillərdə adları veriləcək. Siz isə həmin əsərlərin adlarını Azərbaycan dilində yazmalısınız.

*Bu sual üzrə toplaya biləcəyiniz bal = 3 bal (hər bənd üzrə 1 bal)*

Alman dilində: *Aschenputtel*

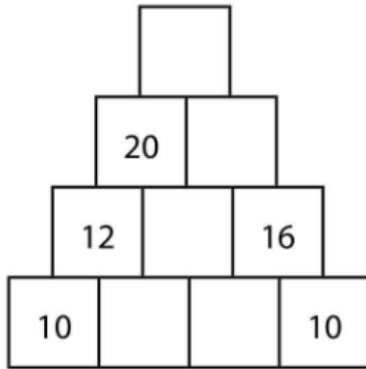
Azərbaycan dilində: \_\_\_\_\_

Dan (Danimarka) dilində: *Den lille Rødhætte*

Azərbaycan dilində: \_\_\_\_\_

İtalyan dilində: *Il principe e il povero*

Azərbaycan dilində: \_\_\_\_\_



**37.**

Bu piramidada eyni sırada olan qonşu ədədlərin üzərindəki xanada onların cəmini yazıblar. Bəzi xanalardakı ədədlər pozulub. Ən üstdəki xanada hansı ədəd idi?

*Bu sual üzrə toplaya biləcəyiniz bal = 5 bal (cavab = 5 bal)*

*Cavab üçün xana:*

**38.** 1-dən 9-a qədər olan natural ədədləri maksimum bir dəfə istifadə etməklə istənilən riyazi əməliyyatlar (toplama, çıxma, vurma, bölmə, dərəcəyə yüksəltmə və s.) aparın və riyazi ifadənin nəticəsi olaraq yekunda **352** alın.

*Bu sual üzrə toplaya biləcəyiniz bal = 10 bal*

*Bu sual üzrə toplayacağınız bal aşağıdakı cədvəl üzrə hesablanacaq:*

<i>İstifadə olunan ədədlərin sayı</i>	3	4	5	6	7	8	9
<i>Toplayacağınız bal</i>	10	8	6	4	3	2	1

*Cavab üçün xana:*

- 39.** Binada 300 mənzil var. Əgər mənzilin nömrəsi 10-a qalıqsız bölünürsə, deməli o mənzildə it saxlayırlar (başqa mənzillərdə it yoxdur). Əgər mənzilin nömrəsindəki rəqəmlərin cəmi 10-a qalıqsız bölünürsə, deməli o mənzildə pişik saxlayırlar (başqa mənzillərdə pişik yoxdur). Neçə mənzildə həm it, həm də pişik saxlayırlar?

*Bu sual üzrə toplaya biləcəyiniz bal = 7 bal (həlli = 5 bal, cavab = 2 bal)*

*Cavab və həll üçün xana:*

- 40.** Mətnə buraxılmış sözləri düzgün şəkildə yazın. Hər bir buraxılmış sözün yanında həmin sözdə istifadə olunan hərflər verilmişdir.

*Bu sual üzrə toplaya biləcəyiniz bal = 6 bal (hər bənd = 1 bal)*

*Friends have asked me, "Leyla, where have you been?" since I returned from my seven-day \_\_\_\_\_ (a) in Ecuador. I love answering to them, "Oh! I went to \_\_\_\_\_ (b) America!" I was there with my \_\_\_\_\_ (c). There were nine of us in the group but we'd never met each other before. On the first day, we travelled with a guide for five hours up the river to our \_\_\_\_\_ (d) camp. It was so \_\_\_\_\_ (e) to be in the Amazon \_\_\_\_\_ (f)!*

- a. ADHILOY \_\_\_\_\_
- b. HOSTU \_\_\_\_\_
- c. ANSTU \_\_\_\_\_
- d. EGJLNU \_\_\_\_\_
- e. CEGIINTX \_\_\_\_\_
- f. AEFINORRST \_\_\_\_\_

## QEYDLƏR ÜÇÜN

**XXI Əsr Beynəlxalq Təhsil və İnnovasiya Mərkəzi**

İnşaatçılar prospekti 98

+994 12 510 02 05/07

+994 50 278 80 83

[info@21century.edu.az](mailto:info@21century.edu.az)